

3. Ünite

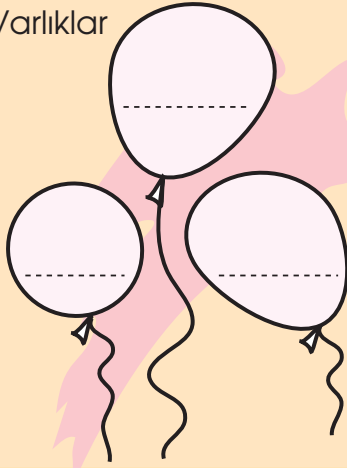
KUVVET ve HAREKET

1. ETKİNLİK

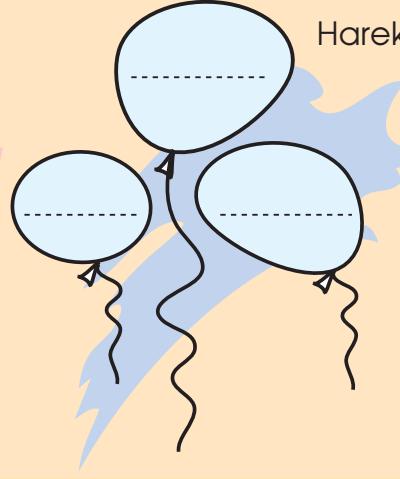
Örnekleyelim

Aşağıdaki balonların içine hareketli ve hareketsiz varlıklara örnekler yazalım.

Hareketli Varlıklar



Hareketsiz Varlıklar



2. ETKİNLİK

Hangisi Hızlı, Hangisi Yavaş?

Aşağıdaki resim çiftlerini karşılaştırarak hangisinin diğerine göre daha hızlı veya daha yavaş olduğunu resmin altındaki boşluklara yazalım.



Papagan



Kartal

.....
dan daha yavaştır.



Motorlu tekne

.....
tan daha hızlıdır.



Kayık

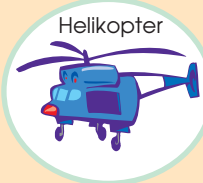


Buharlı tren

.....
den daha yavaştır.



Elektrikli tren



Helikopter

.....
tan daha yavaştır.



Uçak